

روز دهم (۲۸ هفته) ← عدد رتبی فرد

بدون تکرار: $(4)(5)(2) = 11$ $\{1,3\}$ با تکرار: $(4)(5)(2) = 11$ $\{1,3\}$

صنعتی تکرار با... یکی از آن در... هم برداشتم

$2 \times 2 = 4$

روز نهم (۲۹ هفته) ← عدد رتبی زوج

بدون تکرار: $(2)(3)(2) = 12$ $\{1,4\}$ $\{2,4\}$ $\{3,4\}$ با تکرار: $(2)(5)(3) = 12$ $\{1,4\}$ $\{2,4\}$ $\{3,4\}$

تکرار از ۲۵۰

$30 - 1 = 29$

$(1)(3)(1) = 3$ $\{1,4\}$ $\{2,4\}$

روز دهم (۳۰ هفته) ← عدد رتبی فرد

بدون تکرار: $(1)(3)(2) = 6$ $\{1,4\}$ $\{2,4\}$ با تکرار: $(1)(5)(2) = 6$ $\{1,4\}$ $\{2,4\}$

$5 \times 2 = 10$

حقیقه ۲۵

سوال یازدهم

کتابخانه کجایی

بدین تکرار:

با تکرار:

(۲) (۳) (۲) = ۱۲
{۲، ۲} {۳، ۲}

۱ - (۲) (۳) (۲)
{۲، ۲} {۳، ۲} = ۲۹
۳ - ۱ = ۲۹

(۱) (۳) (۱) = ۳
{۱} {۲}

۱۵

سوال ۱۲

کتابخانه کجایی

در وقت استراحت به خواب

{۴۰ / ۲۰ / ۵۰ / ۱۴۴ / ۲۴ / ۵۴}

با تکرار:

(۳) (۳) (۳)

بدین تکرار: (۳) (۳) (۳)
{۴۰ / ۲۰ / ۵۰}

حالت

۴ × ۶ = ۲۴

۳ × ۳ = ۹

حالت ۱۱


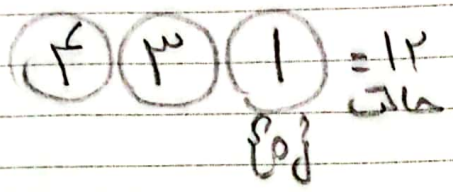
(۲) (۳) (۳) = ۲
{۲۴}

رحلت حضرت رسول اکرم صلی الله علیه و آله (۱۱ هـ) - شهادت حضرت امام حسن مجتبی علیه السلام (۵۰ هـ) (تعطیل) - شهادت ریسعلی دلاوری - روز مبارزه با استعمار انگلیس

سوال ۱۳ (م)


باید : \leftarrow برای سرتیج به چپ برده

بدون سرتیج:



سوال ۱۴ (م)

۱ ۱ ۲ ۳ ۳ \leftarrow



سوال ۱۵ (م)

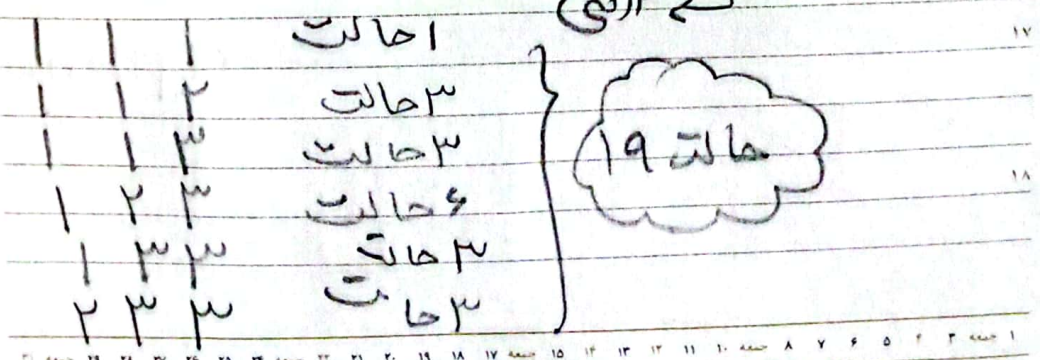
باید سرتیج را در دست چپ بالایی (در واقع عدد سرتیج با این برابرده)

۶۱

۳۱۲۱

سوال ۱۶ (م)

\leftarrow سرتیج



۸

سوال ۱۷ (م)

باید در خط عبوری
در خط انقی انتخاب کنیم

$$\binom{4}{2} \times \binom{4}{2} = \frac{4!}{2!2!} \times \frac{4!}{2!2!} = \frac{4!}{2 \times 2 \times 2} = \frac{24}{8} = 3$$

۹۰ ←

سوال ۱۸ (م)

کتابت

$$\frac{8!}{3!5!} = \binom{8}{3} = \binom{8}{5}$$

انفجار دفتر نخست‌وزیری به دست منافقان و شهادت مظلومانه ی شهیدان رجایی و باهنر (۱۳۶۰ هـ ش) - روز مبارزه با تروریسم

۹

هفته ۲۴

سوال ۱۹ (م)

کتابت درستی ۴ تا باره خط انقی

۵ ←

سوال ۲۰ (م)

$$3 \times 3 + 8 \times 2 + 1 \times 1$$

$$3 \times 27 + 2 \times 22 + 1 \times 5$$

$$81 + 44 + 5 = 130$$

